

ОТВЕТЫ

Задание 1. Соотнесите элементы правого и левого столбцов таблицы. Запишите ответ в таблицу [1 балл за каждый правильный ответ, максимальный балл – 20].

1.1. Установите соответствие между историческими событиями и веками, в которых они произошли [10 баллов].

Историческое событие	Место
1) битва при Гастингсе	Франкское государство
2) правление династии Плантагенетов	
3) походы Карла Мартеллы	
4) начата постройка Великой Китайской стены	Империя Цинь
5) правление Меровингов	
6) морская победа над «Непобедимой армадой»	
7) гонение на конфуцианство	
8) коронация Карла Великого	Королевство Англия
9) принятие «Билля о правах»	
10) создание Терракотовой армии	

Ответ:

Место	Франкское государство	Империя Цинь	Королевство Англия
1.1.	358	4710	1269

1.2. Установите соответствие между историческими деятелями и происходившими при них событиями. Обратите внимание, к одному историческому деятелю могут относиться одно, два или три события [10 баллов].

Деятель	Событие
А) Иван Калита	1) выдержал осаду в Доростоле
Б) Святослав	2) подавление мятежа Варды Фоки
	3) учреждение патриаршества
В) Владимир I	4) походы против половцев
	5) подавление тверского восстания
Г) Федор Иоаннович	6) Угличское дело царевича Дмитрия
	7) ограничение ростовщических процентов
Д) Владимир Мономах	8) учреждение десятины в пользу церкви
	9) созыв Любечского съезда
	10) переезд митрополита в Москву

Ответ:

№	А	Б	В	Г	Д
1.2.	510	1	28	36	479

Задание 2. Расположите приведённые названия кочевых племен в хронологической последовательности их появления на территории Восточно-Европейской равнины. Ответ запишите в виде ряда букв, который отражает последовательность событий [максимальный балл – 6].

А) авары

Г) монголы

Б) печенеги

Д) половцы

В) гунны

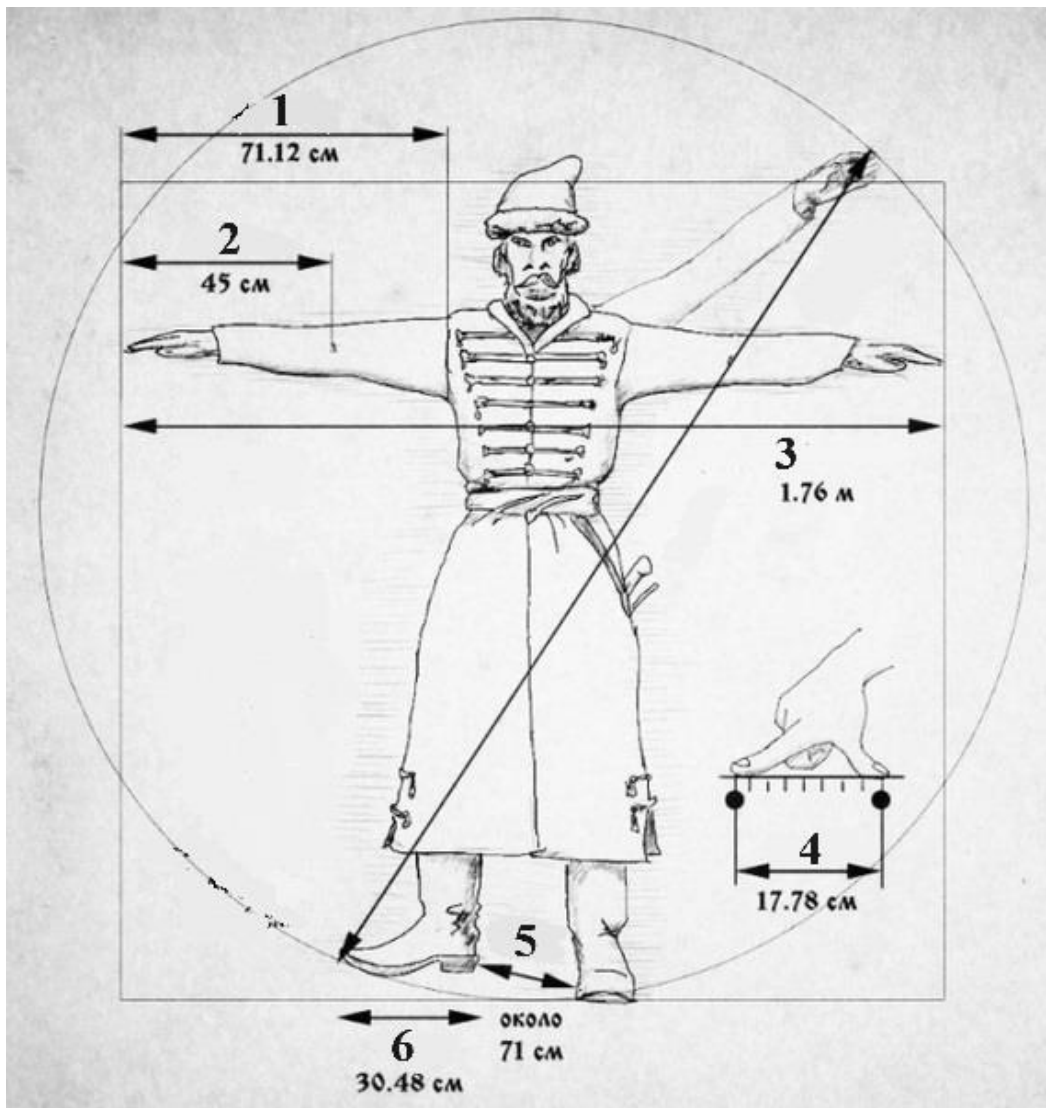
Е) хазары

Ответ:

1	2	3	4	5	6
В	А	Е	Б	Д	Г

Оценивается последовательность событий: В – 1 балл, ВА – 2 балла, ВАЕ – 3 балла и т.д., при нарушении цепочки баллы далее не выставляются, при первой неверной букве – 0 баллов за задание.

Задание 3. На рисунке изображены древние меры длины. Изучите рисунок и выполните задания [9 баллов].



3.1. Под каждой цифрой напишите название соответствующей меры [6 баллов].

1 – аршин, 2 – локоть, 3 – (маховая) сажень, 4 – пядь, 5 – шаг, 6 – фут.

3.2. Напишите названия двух товаров, которые измеряли этими мерами длины [2 балла].

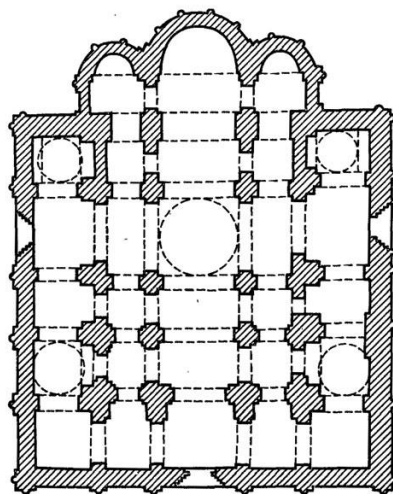
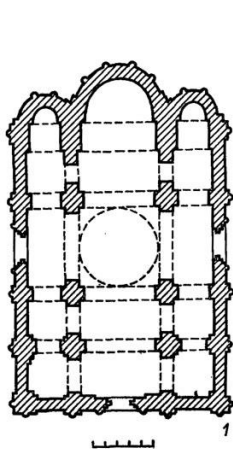
Холст, сукно, полотно.

3.3. Какая пословица связана с этими мерами длины? [1 балл].

Всяк купец на свой аршин мерит; Семь пядей во лбу; Сам с ноготок, а борода — с локоток; От горшка два вершка и др.

Задание 4. Внимательно изучите схемы и фотографии и ответьте на вопросы [12 баллов].





3)

4)



5)

- 4.1. Все изображения связаны с одним городом, схема которого приведена под цифрой «1». Напишите название этого города [1 балл].
- 4.2. Напишите название главного собора в этом городе (фотография под цифрой «2») и имя князя – инициатора постройки [2 балла].
- 4.3. Объясните две схемы данного храма, представленные на рисунке «3» [2 балла].
- 4.4. Напишите название иконы, расположенной под цифрой «4», и поясните ее связь с данным храмом, городом и князем [3 балла].
- 4.5. Как называется стиль живописи, представленный под цифрой «5»? Напишите имя иконописца-автора данного изображения [2 балла].
- 4.6. Напишите названия двух храмов, построенных в этом же городе или рядом с ним [2 балла].
- 4.1. Владимир [1 балл].
- 4.2. Успенский собор, Андрей Боголюбский [2 балла].

4.3. первый храм был возведен Андреем Боголюбским, что соответствует первой схеме, позже при Всеволоде Большое Гнездо храм перестраивался, что отражено на схеме 2 [2 балла].

4.4. икона Владимирской Богоматери. По преданию Андрей Боголюбский приехал с этой иконой из Вышгорода, а после строительства Успенского собора поместил ее туда, где она стала главной иконой храма [3 балла].

4.5. фреска, Андрей Рублев [2 балла].

4.6. Дмитриевский собор, церковь Покрова на Нерли [2 балла].

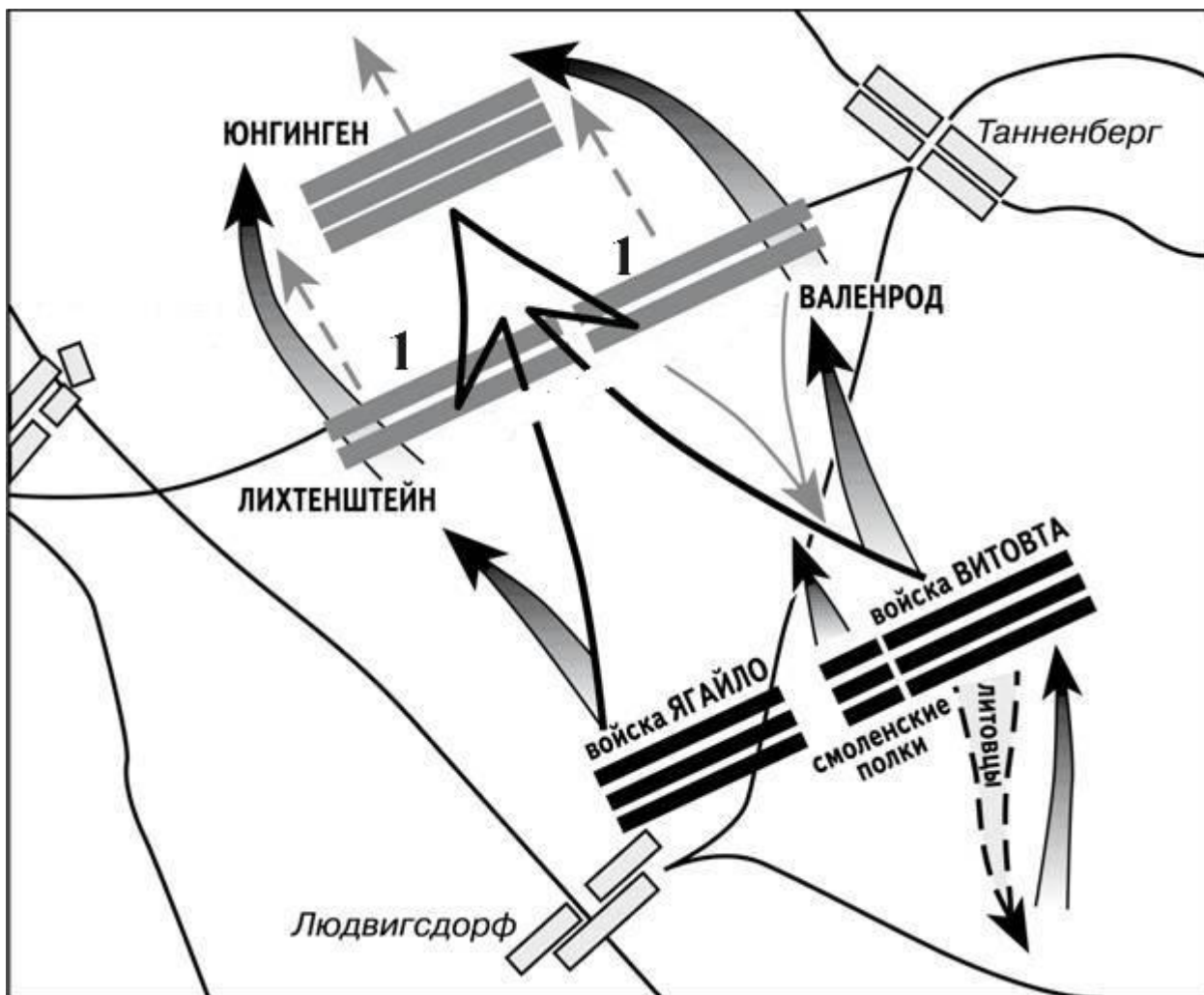
Задание 5. Прочтите отрывок из исторического сочинения. Выпишите в бланк ответов пропущенные слова [Максимальный балл за задание – 7].

Поход на Сибирь был делом частной предприимчивости богатой землевладельческой семьи (1) ... [фамилия семьи]. Происходя от старых новгородских бояр, они сосредоточили в своих руках громадные земли по р. Каме и на среднем Урале. Обладая такими исключительными средствами, они легко могли вести колонизацию за Уралом, в (2) ... [название территории]. Русской власти и колонизации за Уралом, однако, встретилось препятствие в том татарском ханстве, которое было основано ногайскими князьями. Во второй половине XVI в. в этом ханстве появился деятельный хан (3) ... [имя хана], который не давал покоя ни (1) ... [фамилия семьи], ни тем инородцам (остякам), которые платили (4) ... [название платежа] московскому царю. На этого-то (3) ... [имя хана] и решили идти (1) ... [фамилия семьи]. Они, по данному им праву, пригласили к себе на службу вольных казаков с «поля» и с Волги, с атаманом (5) ... [имя атамана], и послали их в (6) ... [год] году походом на (7) ... [название ханства] ханство.

Ответ:

1. Строгановы
2. Сибирь
3. Кучум
4. ясак
5. Ермак
6. 1581 (1582)
7. Сибирское

Задание 6. Внимательно рассмотрите карту и ответьте на вопросы [12 баллов].



- 6.1. Укажите, к какому году относится данная схема [1 балл].
- 6.2. Напишите название события, изображенного на схеме [1 балл].
- 6.3. Какие государства (княжества) участвовали в этом событии? [3 балла].
- 6.4. Напишите имена двух полководцев, принявших участие в этом событии [2 балла].
- 6.5. Напишите название войск, представленных на карте под цифрой «1», и укажите их полководца [2 балла].
- 6.6. Каков результат данного события? [1 балл].
- 6.7. Какое значение имело данное событие для истории Европы? [1 балл].
- 6.8. При каком московском князе происходили обозначенные события? [1 балл].

Ответ:

- 6.1. (15 июля) 1410 г. [1 балл].
- 6.2. Грюнвальдская битва [1 балл].
- 6.3. Королевство Польское, Великое княжество Литовское, Тевтонский орден и др. [3 балла].

6.4. Ягайло, Витовт, Януш Мазовецкий, Сигизмунд Кейстутрович, Лугвений Ольгердович, Джелал ал-Дин и др. [2 балла].

6.5. войска Тевтонского ордена, Ульрих фон Юнгинген [2 балла].

6.6. союзные войска одержали победу над Тевтонским орденом [1 балл].

6.7. Тевтонский орден в результате сильно ослабел, что предопределило его упадок. Польско-литовский союз становится доминирующей военно-политической силой в Восточной Европе [1 балл].

6.8. Василий I [1 балл].

Задание 7. Прочитайте отрывок из исторического источника и ответьте на вопросы [максимальный балл за все задание – 10].

Начало княженія въ Кіевѣ князя великаго Дюргя, сына Володимира б Мономаха, внука Всеволожа, правнука Ярослава, пращюра в великаго Володимира, хрестившаго всю землю Рускую г. Гюрги же поѣха у Кіевъ, и множество народа выйде противу ему, съ радостью великою, и сѣде на столѣ отца своего, хваля и славя Бога. И посла по Володимира по Давыдовича Чернигову, и пріѣха Володимиръ къ Гюрге-

7.1. Укажите событие, упоминаемое в данном отрывке [1 балл].

7.2. Перечислите русских князей, о которых говорит автор в первом предложении [5 баллов].

7.3. Объясните прозвище князя, о котором повествует летопись [1 балл].

7.4. Какова судьба этого князя после данного события? [1 балл].

7.5. Кто стал его преемником? [1 балл].

7.6. Как назывался данный период в русской истории? [1 балл].

7.1. начало княжения в Киеве Юрия Долгорукого (в 1149 г.) [1 балл].

7.2. Юрий Долгорукий, Владимир Мономах, Всеволод Ярославич, Ярослав Мудрый, Владимир Святославович [5 баллов].

7.3. прозвище Долгорукий было получено, видимо за то, что отстаивал свои интересы, расширяя границы Ростово-Суздальской земли и претендуя на Киев [1 балл].

7.4. был убит в Киеве после восстания в 1157 г. [1 балл].

7.5. Андрей Боголюбский [1 балл].

7.6. раздробленность (феодалная, политическая), удельный период [1 балл].

Задание 8. Выберите верные и неверные утверждения. Свой ответ оформите в виде таблицы [максимальный балл за все задание – 10].

1. Новоторговый устав давал широкие привилегии иностранному купечеству.
2. Итогом хованщины стало отстранение Софьи Алексеевны от регентства.
3. Петр I упразднил патриаршество, создав Синод.
4. Полки нового строя состояли из «охочих» вольных людей.
5. С. Разин посылал «прелестные письма» царю.
6. Отмена местничества привела к укреплению дворянства.

7. Медный бунт был вызван нехваткой медной монеты.
8. Земные поклоны в церкви были отменены в ходе церковной реформы.
9. Приказ тайных дел наблюдал за боярами и думными дьяками.
10. Россия смогла вернуть себе Смоленск при Михаиле Романове.

Ответ:

Верные утверждения	Неверные утверждения
34689	125710

Задание 9. Выберите несколько верных ответов в каждом задании [1 балл за каждый правильный ответ, максимальный балл – 6].

9.1. Какие из перечисленных источников относятся к законодательству XVII вв.?

- | | |
|------------------------|-------------------------------|
| 1) «Соборное Уложение» | 4) «Судебник» |
| 2) «Домострой» | 5) «Торговый устав» |
| 3) «Русская Правда» | 6) «Псковская судная грамота» |

9.2. В каких русских землях сложилась республиканская форма правления?

- | | |
|----------------------------------|----------------------------------|
| 1) Ростово-Суздальское княжество | 4) Псковское княжество |
| 2) Галицкое княжество | 5) Владимиро-Волынское княжество |
| 3) Новгородская земля | 6) Киевская земля |

9.3. Выпишите формы землевладения в русских землях.

- | | |
|-------------|------------|
| 1) погост | 4) мыт |
| 2) поместье | 5) вотчина |
| 3) вира | 6) вече |

Ответ:

9.1.	9.2.	9.3.
15	34	25

Задание 10. Посмотрите на изображения и заполните таблицу [1 балл за каждый правильный ответ, максимальный балл – 8].



1)



2)

3)

вопрос	Изображение 1	Изображение 2
Кому посвящен памятник?	И.Д. Бухголец [1 балл]	Д.М. Карбышев [1 балл]
Чем знаменит герой?	Укрепление государственной границы в Западной Сибири и Забайкалье [1 балл]	В годы Великой Отечественной войны в плену отказался сотрудничать с немцами, за что был зверски замучен в концлагере [1 балл]
Как он связан с историей Омска?	Руководил экспедицией, в результате которой была построена Омская крепость [1 балл]	Родился в Омске, с отличием окончил кадетский корпус [1 балл]
Какие объекты в Омске названы именем данной личности?	улица, площадь [1 балл]	улица, аэропорт, детский лагерь и др. [1 балл]

В данном задании могут быть даны и иные ответы, не противоречащие сути явлений.