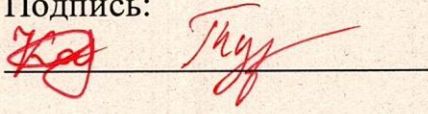


ПРОТОКОЛ
проверки олимпиадной работы участника
класс

№ раздела	2 тур										Итого
	1	2	3	4	5	6	7	8	9	10	
№ вопроса											
Максимальное количество баллов	12	8	12	7	6	10	13	12	13	7	100
Баллы жюри	2	4	5	0	5	4	3	0	0	2	25
Баллы жюри	2	4	5	0	5	4	3	0	0	2	25

Подпись:



1|2|3|4|5|6|7|8|9|10|
 2|4|5|0|5|4|3|0|0|2|/25
 2

9-20-2

ВТОРОЙ ТУР 9-11 класс
Максимальная оценка – 100 баллов
Бланк ответов

1. [12 баллов].

Соору- жение	Элемент декора или росписи (буква)	Название ¹	Место ²
1.	Б	Храм Ильи Пророка	Ярославль
2.	К	Храм Покрова на Нерли	
3.	Е Л	Успенский собор	Владимир
4.	Е	Троице-Сергиевская лавра	
5.	Г		
6.	В		
7.	А		
8.	А	Храм Христа Спасителя	Санкт-Петербург
9.	М	Храм Вознесения	Коломенский
10.	АН	Сормовский собор	Колоцк
11.	И	Кадетский корпус	Москва
12.	З		

2. [8 баллов]

Ситуация, отраженная на карте, и фактически, и юридически существовала с 1 г. до _____ г.

Верно (вписать номера суждений)	Неверно (вписать номера суждений)
5 11 23 49	10 7 16 8

3. [12 баллов].

Номер текстового фрагмента (вписать в хронологической последовательности)	Название сочинения (вписать букву)	Номер события из списка событий (вписать римскую цифру, без датировки) или самостоятельно определенное событие (с датировкой – год)
2	Г	III
1078г. 5	Б	II 1078г.
7	Е	
8	В	V
9	Е	I (1095г.)
1.	В	Любечский съезд 1097г.
3	Е	
6	А	

¹ Может быть названо как официальное, так и общепринятое название. Если постройка находится на территории монастыря, обязательно назвать этот монастырь.

² Город или др. населенный пункт.

11	А	ММ. Разгром Половцев
10	В	призвание Владимира на Киев. престол
4	В	1120-й год ³ ,

4. [7 баллов].

Букв.обозначение фрагмента	Вписать имя и прозвище	Номер на карте
А.		
Б.	Дмитрий Донской	4
В.		
Г.		
Д.	Александр Невский	5
Е.		
Ж.		

5. [6 баллов].

Титульный лист издания (римская цифра) ⁴	Название издания (буква)	Текстовый фрагмент (арабская цифра)
I	Б	3
III	В	1
II	Г	2
IV	Д	5
V	А	4

6. [10 баллов].

Показатели, характеризующие российское общество и государство в XVI веке	Верные количественные значения показателей (вписать, взяв из таблицы на бланке заданий)
1. Возраст начала несения дворянами военной службы (лет)	22
2. Годовое жалование рядового стрельца (рублей)	150
3. Денежная сумма, которую земщина должна была выделить на обустройство опричнины (рублей)	1050
4. Доля военно-служилых людей на земском соборе 1598 года (%)	80 52
5. Доля запустевших поселений в Шелонской пятине Новгородской земли в 1584 г. (%)	90 91

³ Вписать событие, указав имя и прозвище князя, а также название народа.

⁴ Заполните в хронологическом порядке публикации изданий.

6. Количество постоянно действовавших приказов в конце XVI века	15
7. Размер земельного владения, с которого выставлялся конный воин в полном доспехе (десятин)	100000
8. Примерная протяженность стен Белого города Москвы (метров)	3500
9. Тираж печатной книги «Апостол» в издании 1597 года (экземпляров)	4
10. Численность русского войска в походе на Полоцк (человек)	31200

7. [13 баллов].

Конфликт с указанием дат (годы) (вписать самостоятельно в хронологической последовательности)	Песня (вписать букву)
	Ж
Северная война 1700-1721	Д
Итальянск. походы 1799	В
Отеч. русско-француз. война 1812г.	З
	Г
Русско-турецкая война 1877-78	И
Вторая Мировая война 1939-45	Е

1
0
1
0
0
0
0
0
0
0
1

Фрагмент А. «Английская царица – прековарная вдовица» - _____

Фрагмент Б. «Белый царь» - _____

Фрагмент Е. «Король» - Сталин

Фрагмент Ж. «Царь-освободитель» - Александр II + _____

8. [12 баллов]

Фото (номер) ⁵	Текст (буква)	Фамилия (или псевдоним) деятеля
6	Б	
3	Б И	
5	А В В	Троцкий
4 1	А К	Ленин
	Ж Е	Сталин

0
0
0
0
0

⁵ Заполнить в хронологической последовательности.

Г	11.	









9. [13 баллов].

Название области РСФСР либо союзной республики (вписать самостоятельно)	Буквенные обозначения фрагментов

10. [7 баллов]. Вариативное задание.

Мною выбран вариант А
(указать буквенное обозначение варианта)

Вариант А.

			
И 7	ЛБ	Г	к
			
А +	М +	З	АЕ

Вариант Б.

			
			A
			
B			
			