

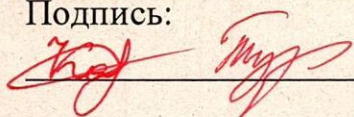
11-53-2

Шифр

**ПРОТОКОЛ**  
проверки олимпиадной работы участника  
класс

№ раздела	2 тур										Итог
	1	2	3	4	5	6	7	8	9	10	
№ вопроса											
Максимальное количество баллов	12	8	12	7	6	10	13	12	13	7	100
Баллы жюри	4	8	1	2	2	8	10	4	3	2	44
Баллы жюри	4	8	1	2	2	8	10	4	3	2	44

Подпись:



7/2/3/4/5/6/7/8/9/10  
 4/8/1/2/2/8/10/4/3/2 / 44  
 4 8 8 2

11-53-2

**ВТОРОЙ ТУР 9-11 класс**  
**Максимальная оценка – 100 баллов**  
**Бланк ответов**

**1. [12 баллов].**

Сооружение	Элемент декора или росписи (буква)	Название <sup>1</sup>	Место <sup>2</sup>
1.	I	Софийский собор	Киев
2.	К	Локров на Керчи	
3.	Ч	Успенский собор во Владимире	Владимир
4.	Е	Архангельский собор	Москва
5.	К		
6.			
7.	О	Георгиевский собор	Новгород
8.	8		
9.	И	Черковь Вознесения	Коломна
10.	А	Успенский собор в Москве	Москва
11.	3	Оружейная палата	Москва
12.	Л	Трапезная палата	Москва

**2. [8 баллов]**

Ситуация, отраженная на карте, и фактически, и юридически существовала с ~~1914~~ 1914 г. до ~~1914~~ 1913 г.

Верно (вписать номера суждений)	Неверно (вписать номера суждений)
1, 2, 3, 6, 11	4, 5, 7, 8, 9, 10

**3. [12 баллов].**

Номер текстового фрагмента (вписать в хронологической последовательности)	Название сочинения (вписать букву)	Номер события из списка событий (вписать римскую цифру, без датировки) или самостоятельно определенное событие (с датировкой – год)
	Б	
		I
1	В	1097 год – иконописный съезд князей
3	Е	
6		

<sup>1</sup> Может быть названо как официальное, так и общепринятое название. Если постройка находится на территории монастыря, обязательно назвать этот монастырь.  
<sup>2</sup> Город или др. населенный пункт.

		1120-й год <sup>3</sup> ,

## 4. [7 баллов].

Букв.обозначение фрагмента	Вписать имя и прозвище	Номер на карте
А.		
Б.		
В.	Сергий Радонежский	4
Г.	Кесарь	3
Д.		
Е.	Александр Невский	5
Ж.		6

## 5. [6 баллов].

Титульный лист издания (римская цифра) <sup>4</sup>	Название издания (буква)	Текстовый фрагмент (арабская цифра)
I	Б	3
II	Г	2
III	В	5
IV	Д	4
V	А	1

## 6. [10 баллов].

Показатели, характеризующие российское общество и государство в XVI веке	Верные количественные значения показателей (вписать, взяв из таблицы на бланке заданий)
1. Возраст начала несения дворянами военной службы (лет)	15
2. Годовое жалование рядового стрельца (рублей)	150
3. Денежная сумма, которую земщина должна была выделить на обустройство опричнины (рублей)	100000
4. Доля военно-служилых людей на земском соборе 1598 года (%)	52
5. Доля запустевших поселений в Шелонской пятине Новгородской земли в 1584 г. (%)	91

<sup>3</sup> Вписать событие, указав имя и прозвище князя, а также название народа.

<sup>4</sup> Заполните в хронологическом порядке публикации изданий.

6. Количество постоянно действовавших приказов в конце XVI века	22	1
7. Размер земельного владения, с которого выставлялся конный воин в полном доспехе (десятин)	4	0
8. Примерная протяженность стен Белого города Москвы (метров)	9500	1
9. Тираж печатной книги «Апостол» в издании 1597 года (экземпляров)	1050	1
10. Численность русского войска в походе на Полоцк (человек)	31200	1

1  
0  
1  
1  
1  
1  
8

7. [13 баллов].

Конфликт с указанием дат (годы) (вписать самостоятельно в хронологической последовательности)	Песня (вписать букву)
	Б
Северная война 1700-1721 года	Г
Семилетняя война 1756-1763 года	Е
Русско-турецкая война 1787-1791 года	Г
Заграничные походы русской армии 1813-1814	З
Крымская война 1853-1856 года	А
Завоевание Кавказа 1817-1864 года	И
Завоевание Ашхабада 1860-е - 1870-е года	К
Русско-турецкие войны 1877-1878 года	Ж
Первая мировая война 1914-1918 года	В

0  
1  
1  
1  
1  
1  
0  
1  
1  
1  
1  
8

- Фрагмент А. «Английская царица – прековарная вдовица» - королева Виктория +
- Фрагмент Б. «Белый царь» - ~~Фридрих II (король)~~ Михаил Федорович +
- Фрагмент Е. «Король» - король Рудрих II +
- Фрагмент Ж. «Царь-освободитель» - Александр II (император) +

8. [12 баллов]

Фото (номер) <sup>5</sup>	Текст (буква)	Фамилия (или псевдоним) деятеля
6	И	Великий князь Николай Николаевич
8	Б	Столыпин
10	Ж	Фрунзе Ленин
5	В	Киров

Александр  
вып. 1  
8  
1

<sup>5</sup> Заполнить в хронологической последовательности.

9	3	Чернышова
7	E	Кашкина
1	K	Сидорова
М	A	Татарин
3	Г	Френкель

9. [13 баллов].



Название области РСФСР либо союзной республики (вписать самостоятельно)	Буквенные обозначения фрагментов
УССР +	E +
УССР -	U -
Владимирская область	A -
Ленинградская область +	3 +

10. [7 баллов]. Вариативное задание.

Мною выбран вариант A

(указать буквенное обозначение варианта)

Вариант А.

			
Г +	В +	Б	Д
			
E		И	A

Вариант Б.

