

**РЕГИОНАЛЬНЫЙ ЭТАП ОЛИМПИАД ШКОЛЬНИКОВ  
ДЛЯ ОБУЧАЮЩИХСЯ 7-8 КЛАССОВ 2021-2022 гг.**

**ГЕОГРАФИЯ  
7 КЛАСС**

**ЗАДАНИЯ ДЛЯ ОБУЧАЮЩИХСЯ**

**Максимальное количество баллов-100**

**Время выполнения заданий -235 минут**

**Тестовый тур**

**Время выполнения заданий 40 минут**

**Максимальный балл за все задания – 20 баллов**

**1.Какая из перечисленных рек не относится к бассейну Индийского океана:**

- А) Замбези
- Б) Лимпопо
- В) Меконг
- Г) Инд

**2. На климатической карте не изображают:**

- А) изотермы
- Б) изобаты
- В) изобары
- Г) изогии

**3. Периодически пересыхающие реки Австралии называются:**

- А) вади
- Б) крики
- В) русло
- Г) уэд

**4. При слиянии рек Укаяли и Мараньон образуется река:**

- А) Миссисипи
- Б) Нил
- В) Меконг
- Г) Амазонка

**5. Крайняя южная точка Африки:**

- А) м. Альмади
- Б) м. Рас-Хафун
- В) м. Пиай
- Г). м. Игольный

**6.Какому азимуту соответствует направление на З-ЮЗ**

- А) 135
- Б) 247,5
- В) 112,5
- Г) 202,5

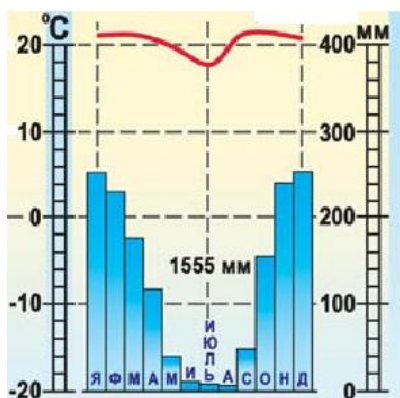
**РЕГИОНАЛЬНЫЙ ЭТАП ОЛИМПИАД ШКОЛЬНИКОВ  
ДЛЯ ОБУЧАЮЩИХСЯ 7-8 КЛАССОВ 2021-2022 гг.**

**ГЕОГРАФИЯ  
7 КЛАСС**

**7. Наивысшая точка Большого водораздельного хребта:**

- А) г. Белуха
- Б) г. Митчелл
- В) г. Винсон
- Г) г. Косцюшко

**8. К какому типу климата относится представленная климатограмма:**



- А) экваториальному
- Б) субэкваториальному
- В) тропическому
- Г) умеренному

**9. Самый низкорослый народ на Земле, живущий в Африке:**

- А) пигмеи
- Б) бушмены
- В) зулусы
- Г) туареги

**10. Устойчивые участки земной коры называются:**

- А) платформами
- Б) складчатыми поясами
- В) равнинами
- Г) холмами

**11. Изменение природных комплексов от экватора к полюсам называется:**

- А) высотная поясность.
- Б) природная зона
- В) широтная зональность
- Г) климатический пояс

**12. Чему примерно будет равно значение атмосферного давления на вершине г.Эльбрус (5642 м), если у ее подножия атмосферное давление составляет 767 мм рт. ст.:**

- А) 230 мм рт. ст.;
- Б) 1304 мм рт. ст.;
- В) 801 мм рт. ст.;
- Г) 733 мм рт. ст.

**13. Степи Южной Америки называются:**

- А) пампа

**РЕГИОНАЛЬНЫЙ ЭТАП ОЛИМПИАД ШКОЛЬНИКОВ  
ДЛЯ ОБУЧАЮЩИХСЯ 7-8 КЛАССОВ 2021-2022 гг.**

**ГЕОГРАФИЯ  
7 КЛАСС**

- Б) сельва
- В) саванна
- Г) прерии

**14. Нисходящее движение воздуха преобладает в течение всего года в широтах:**

- А) арктических и умеренных
- Б) умеренных и экваториальных
- В) экваториальных и тропических
- Г) тропических и арктических

**15. Какое из утверждений является неверным:**

- А) в зоне саванн хорошо выражены четыре времени года
- Б) для Сахары характерна большая суточная амплитуда температур
- В) Сахель- район, подверженный катастрофическим засухам.
- Г) Ислам - одна из мировых религий.

**16. Выберите группу, в которой правильно собраны реки Африки:**

- А) Конго, Сенегал, Чад, Нигер
- Б) Виктория, Нил, Оранжевая, Лимпопо
- В) Голубой Нил, Замбези, Лимпопо, Луалаба
- Г) Замбези, Ньяса, Танганьика, Конго

**17. Если численный масштаб плана составляет 1:5 000 000, то именованный будет:**

- А) в 1 см 500 км;
- Б) в 1 см 50 000 км;
- В) в 1 см 50 км;
- Г) в 1 см 5 км.

**18. Выберите правильное утверждение, в котором перечислены материки по мере увеличения их площади:**

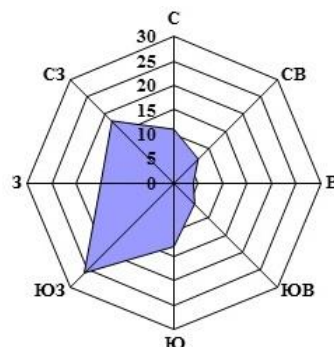
- А) Австралия, Антарктида, Северная Америка, Южная Америка, Африка, Евразия;
- Б) Евразия, Африка, Северная Америка, Южная Америка, Антарктида, Австралия;
- В) Австралия, Антарктида, Южная Америка, Африка, Северная Америка, Евразия;
- Г) Австралия, Антарктида, Южная Америка, Северная Америка, Африка, Евразия.

**19. Выберите верное соответствие «материк - наивысшая точка»**

- А) Евразия – г. Аконкагуа;
- Б) Африка – г. Килиманджаро;
- В) Южная Америка – г. Эльбрус;
- Г) Антарктида – г. Мак-Кинли

**20. Определите по розе ветров, какое направление ветра преобладает в данном населенном пункте?**

- А) восточное
- Б) северо-западное
- В) юго-западное
- Г) южное



**РЕГИОНАЛЬНЫЙ ЭТАП ОЛИМПИАД ШКОЛЬНИКОВ  
ДЛЯ ОБУЧАЮЩИХСЯ 7-8 КЛАССОВ 2021-2022 гг.**

**ГЕОГРАФИЯ  
7 КЛАСС**

**Теоретический тур**

**Время выполнения теоретического тура- 195 минут  
Максимальное количество баллов за теоретический тур 80 баллов**

**Задание 1.**

Внимательно прочитайте логические цепочки и определите общий признак для объектов гидросферы, собранных в каждой логической цепочке. Назовите, что это за объекты, укажите объединяющий их признак (например, по географическому положению, происхождению и т. п.).

В каждой логической цепочке найдите географический объект, который является лишним в цепочке (отличается от других в группе), объясните свой выбор.

Продолжите логический ряд (приведите по 1 примеру географических объектов, которые будут верными для каждой логической цепочки)

1. Красное – Азовское-Белое-Средиземное- Желтое
2. Ориноко-Конго-Нил-Миссисипи-Огайо
3. Верхнее- Венерн-Байкал-Ладожское-Онтарио
4. Бенгальский- Большой австралийский- Мозамбикский- Карпентария- Оманский

**Максимальное количество баллов за задание -17 баллов**

**Задание 2 .**

Внимательно прочитайте таблицу и предложенный список горных пород. Распределите горные породы в таблицу в соответствии с их происхождением

Осадочные				Магматические		Метаморфические
Неорганические		Органические	Глубинные	Излившиеся		
Обломочные	Химические					

Гнейс, торф, каменный уголь, гранит, песок, известняк, мрамор, глина, кварцит, пемза, гипс, базальт, щебень, поваренная соль, галька, горючие сланцы.

**Максимальное количество баллов за задание -16 баллов**

**Задание 3**

Внимательно изучите изображения крупнейших речных бассейнов мира. По данным изображениям определите название реки, море (океан), в которое река впадает, и материк, по которому она протекает. Ответы поместите в таблицу.

**Максимальное количество баллов за задание -8 баллов**

**РЕГИОНАЛЬНЫЙ ЭТАП ОЛИМПИАД ШКОЛЬНИКОВ  
ДЛЯ ОБУЧАЮЩИХСЯ 7-8 КЛАССОВ 2021-2022 гг.**

**ГЕОГРАФИЯ  
7 КЛАСС**



Рисунок 1

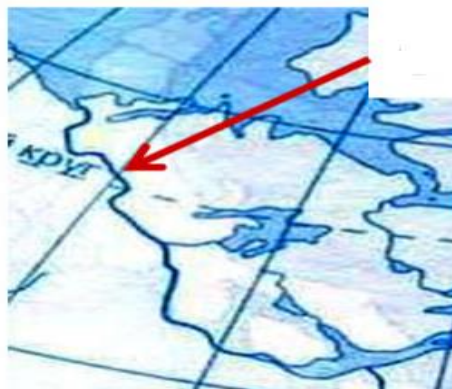


Рисунок 2

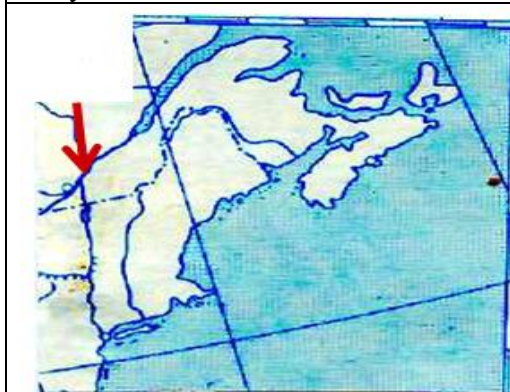


Рисунок 3



Рисунок 4

**Задание 4**

Определите горную систему по её краткому описанию в тексте и ответьте на вопросы. Эта горная система расположена на самом большом континенте Земли, на территории нескольких государств, большая её часть принадлежит самому большому по площади государству мира. Море, расположенное на западе от горной системы, соединено с крупнейшим межматериковым морем Земли двумя важными проливами, и с самым маленьким по площади морем мира. А река, берущая начало в этих горах, впадает в самое маленькое по глубине море на планете. Эта горная система расположена на границе нашей страны с четырьмя странами мира, здесь же находится и высшая точка России. Горы входят в состав крупного горного пояса альпийской складчатости. Также к этой складчатости и поясу относятся горы, расположенные на полуострове, отделяемом от рассматриваемой горной системы небольшим проливом. В этих горах располагается самый большой город-курорт нашей страны, в котором проходили зимние Олимпийские игры в 2014 году.

Определите:

- 1) название горной системы;
- 2) континент, в пределах которого находится горная система
- 3) самое большое по площади государство;
- 4) море на западе горной системы,
- 5) два пролива
- 6) самое маленькое по площади море Земли;
- 7) самое мелкое море планеты;

**РЕГИОНАЛЬНЫЙ ЭТАП ОЛИМПИАД ШКОЛЬНИКОВ  
ДЛЯ ОБУЧАЮЩИХСЯ 7-8 КЛАССОВ 2021-2022 гг.**

**ГЕОГРАФИЯ  
7 КЛАСС**

8) четыре пограничных государства и их столицы;

9) название высшей точки России

10) название горного пояса;

11) полуостров

**Максимальное количество баллов за задание 19 баллов**

**Задание 5**

Вашему вниманию представляется фрагмент топографической карты участка местности. Необходимо его изучить и ответить на ряд вопросов. Результаты своего картографического исследования необходимо оформить в предложенной таблице *в бланке ответов*

**Максимальное количество баллов за задание -20 баллов**