

Инструкция по выполнению задания
Время выполнения заданий – 90 минут
Максимальный балл – 100 баллов

Задание 1. Внимательно прочитайте фрагменты из работ отечественных историков и укажите о какой исторической личности идет речь в каждом фрагменте [2 балла за каждый правильный ответ, максимальный балл – 8].

1.1. Страх _____ и бояр, окружавших ее, за свою судьбу и судьбу наследника способствовал тому, что буквально через неделю после смерти великого князя Юрий был «поиман» и брошен в темницу, где и скончался. Смерть Юрия Ивановича поставила последнего из оставшихся в живых братьев Василия – Андрея в положение претендента на великокняжеский трон вне зависимости от того, хотел он этого или нет. <...> Взаимоотношения удельного князя с правительством _____ стали напряженными, <...> что стало отчасти причиной бегства Андрея из Старицы.

1.2. Плавание _____ «на низ Волгою» началось от Твери. Шесть лет путешествовал он по Востоку, прошел многие земли, повидал десятки городов и сотни деревень: малабарский берег Индии, алмазные копи Райчуру, храм Шивы на берегах Кистны, каравн-сарай Баку, Маската, Исфахана, трапезундский порт, генуэзскую Кафу. В его записках нашли отражение караванные и морские маршруты, перечни товаров, время в пути, климатические особенности.

1.3. Сын Юрия _____ в первые десять лет своего княжения во Владимире не принимал активного участия в южнорусских делах. Он начинает претендовать на главенство среди русских князей в конце 60-х годов. <...> Ему удалось одолеть своего соперника и двоюродного племянника – Мстислава Изяславича. Сам _____ в Киеве не сел, оставив там на княжении своего брата Глеба. Это, действительно, породило ситуацию, при которой в перспективе статус общерусской столицы мог перейти от Киева к Владимиру. <...> Но такое положение продлилось крайне недолго. Вскоре после смерти Глеба Юрьевича из повиновения вышли сыновья Ростислава. Затем _____ погибает в результате заговора своих приближенных, и в Северо-Восточной Руси вспыхивает междоусобная война.

1.4. Он принял Русь из рук слабеющей матери. Международная обстановка сложилась к тому времени неблагоприятно для Руси. Византийская империя стремилась ослабить Русь. Постоянную угрозу нес Руси Хазарский каганат и Волжская Булгария. <...> В историографию князь вошел в качестве завоевателя, поглощенного далекими походами и не заботившегося о родной земле. Для такого мнения существуют определенные основания. Когда печенеги осадили Киев, князя не оказалось в городе, он был в Переяславце на Дунае.

Ответ:

1.1.	1.2.	1.3.	1.4.
Елена Глинская	Афанасий Никитин	Андрей Боголюбский	Святослав Игоревич

Задание 2. Определите и запишите принцип образования каждого логического ряда, найдите и выпишите лишний элемент в каждом ряду. Объясните, почему данный элемент является лишним [1 балл за принцип, 1 балл за лишний элемент в каждом ряду, 1 балл за объяснение для лишнего элемента; максимальный балл – 9 баллов].

2.1. «Задонщина», «Повесть о Евпатии Коловрате», «Слово о полку Игореве», «Сказание о Мамаевом побоище»;

Ответ: «Слово о полку Игореве» посвящено неудачному походу Игоря-Северского против половцев, все остальные повествуют о татаро-монгольском нашествии.

2.2. Батый, Узбек, Мамай, Тохтамыш


Ответ: Мамай, являлся темником, т.е. незаконным наследником, не из рода Чингизидов, остальные ханы – потомки Чингисхана.

2.3. Правёж, поро́к, татьба, вира.

Ответ: Термины относятся к древнерусскому праву и связаны с системой наказаний, кроме поро́ков – метательное оружие в русских землях в средние века.

Задание 3. Установите соответствие между архитектурными памятниками и их описанием (обратите внимание, в описании есть лишний элемент). Укажите их местоположение (город) и век их постройки. [1 балл за каждый правильный ответ, максимальный балл – 15].






В)



Г)



Д)

1) В лето 6545. Заложил Ярослав городъ великий, <...> заложил же и церковь святая Софья, митрополью».

2) Создана бысть церковь святая Богородица ... князем Андреем; и украсил ю дивно... и верх ея позлатил... привел к нему Бог из всех земель мастеров.

3) Он был воздвигнут преподобным Никоном «в честь и похвалу» основателю монастыря на месте первой деревянной церкви. Строительство храма осуществлялось при содействии сына великого князя Дмитрия Ивановича Донского — Звенигородского и Галицкого князя Юрия Дмитриевича. Для данного собора была написана икона «Троица» Андреем Рублевым.

4) В лето 6560. Благоверный великий князь Ярослав Володимирович и сын его великий князь Володимир Ярославич поставил церковь святая Софья Премудрости Божия при архиепископе ... владыке Луки. Священна бысть церковь святая София месяца сентября в 14 день, на Воздвижение честнаго креста.

5) Здание поражало воображение русских людей своими размерами, пропорциями, декором. Этот собор — шедевр древнерусской архитектуры — уже для современников стал выдающимся памятником зодчества. Внимание к нему усиливалось рядом неординарных событий, которые сопровождали сооружение храма: падением заложенного ... здания, изменением роли великокняжеской власти и митрополичьей кафедры в возведении храма, приглашением иностранного зодчего, личность которого возбуждала большое любопытство, чередой «чудес». Поражали масштабы строительства и размеры вложенных в него средств.

б) Строеение этого храма поручено было Миланцу Алевизу новому, под надзором государевых бояр, как тогда бывало. Он украшен был всякою церковною утварию в царствование сына Иоаннова Василия; тогда же помещенные в церкви Св. Иоанна Спасителя Лествицы на время строения гробы великих князей перенесены и поставлены на уготованных местах в соборе, вновь сооруженном; над ними устроены каменные надгробницы с покровами.

Ответ:

	А	Б	В	Г	Д
Номер фрагмента	5	3	6	1	2
Местоположение (название города)	Москва	Сергиев посад	Москва	Киев	Владимир (на Клязьме)
Век постройки	XV (1475-1479)	XV (1422-1423)	XVI (1505-1508)	XI (1037)	XII (1158-1160)

Задание 4. Прочтите отрывок из исторического сочинения. Выпишите в бланк ответов пропущенные слова [Максимальный балл за задание – 12].

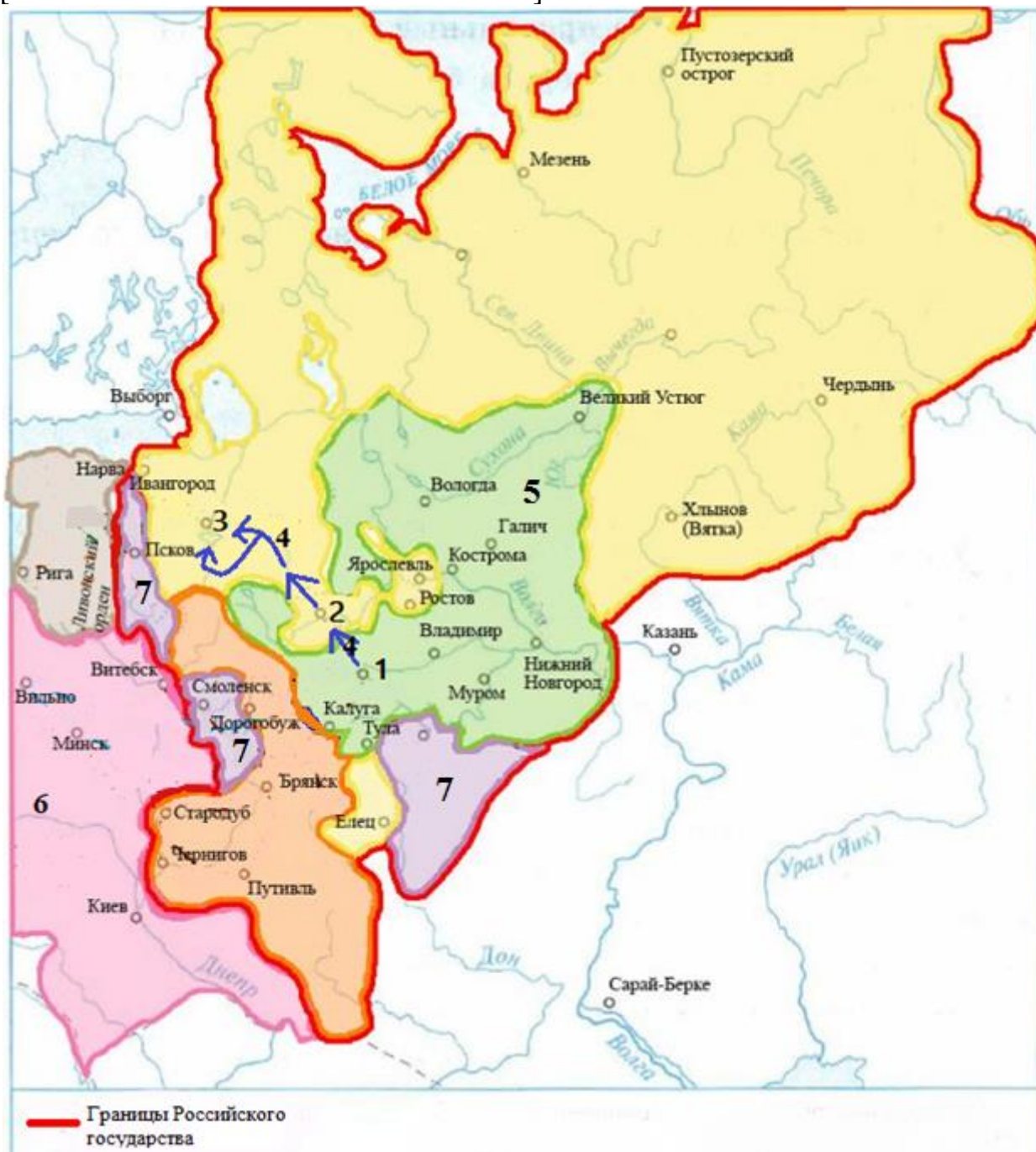
Покорение и колонизация Сибири представляет собой цепь событий, имеющих столь же большое историческое значение и столь же ярких, как деяния европейцев по другую сторону океана. В середине (1) ... [век] сибирский хан (2) ... [имя хана] признал вассальную зависимость от Московского государства. В качестве данника он платил Москве ежегодный (3) ... [название платежа] в 1000 соболей. Однако положение (2) ... [имя хана] в Сибирском ханстве было непрочное, его основным соперником был (4) ... [имя хана] из рода Шибанидов, который в итоге и одержал победу, подчинив себе все сибирские племена и народы. Новый сибирский хан отказался платить дань Москве, а позже организовал поход на владения уральских купцов (5) ... [фамилия купцов]. Для защиты своих владений купцы (5) ... [фамилия купцов] пригласили дружину казаков во главе с атаманом (6) ... [имя]. В (7) ... [год] казачье войско одержало победу над основными силами сибирского хана и взяло столицу ханства - (8) ... [название]. На помощь казакам царь (9) ... [имя], а позже его сын (10) ... [имя и отчество] отправляли отряды (11) ... [название войска]. Вскоре здесь стали строить остроги. Первым таким правительственным острогом стал город (12) ... [название].

Ответ:

1. XVI в.
2. Едигей
3. Ясак
4. Кучум
5. Строгановы
6. Ермак

7. 1582 г.
8. Кашлык (Искер)
9. Иван IV
10. Федор Иоаннович
11. Стрельцы
12. Тюмень

Задание 5. Внимательно рассмотрите карту и ответьте на вопросы
[максимальный балл за все задание – 24].



5.1. Укажите к какому году (годам) относятся границы Российского государства, обозначенные в легенде карты красным (жирным) цветом. Объясните свой ответ [3 балла].

5.2. Напишите имя князя, при котором сложились границы, обозначенные в легенде карты цифрой «5». Свой ответ аргументируйте [3 балла].

5.3. Напишите название города, обозначенного на карте цифрой «1». Укажите дату первого упоминания о нем в летописях. Кто из князей получил этот город в удел первым? [3 балла].

5.4. Кто возглавлял поход, отмеченный на карте цифрой «4». Напишите имя организатора обороны города, обозначенного на карте цифрой «3». Укажите результат данного похода [3 балла].

5.5. Укажите не менее трех особенностей управления городом, обозначенным на карте цифрой «3» до похода, изображенного на схеме [3 балла].

5.6. Напишите название государства, территория которого на карте отмечена цифрой «6». Как складывались отношения с этим государством во второй половине XVI в.? Что происходит с этим государством в 1569 году? [3 балла].

5.7. При каком правителе земли, обозначенные в легенде цифрой «7», вошли в состав единого государства? Напишите три административно-территориальных единицы, на которые делилось государство во время его правления [3 балла].

5.8. Укажите не менее трех мероприятий последней четверти XV – начала XVI вв., направленных на создание централизованного государства [3 балла].

Ответ:

5.1. 1533 г. (после 1521/1523 гг. до 1552 г. – любой год в данном промежутке) [1 балл]. Объяснение: в состав Российского государства вошли Рязань, Псков, Чернигов и Смоленск [1 балл], но еще не присоединена Казань [1 балл]. Важно, чтобы участник обратил внимание не только на включенные в состав государства территории, но и существующие вне его границ.

5.2. Василий I (Василий II) [1 балл]. Объяснение: Василием I был присоединен Нижний Новгород и Муром [1 балл], которые входят в состав обозначенных границ, но еще сохраняют свою самостоятельность Ярославль и Ростов [1 балл]. Важно, чтобы участник обратил внимание не только на включенные в состав княжества территории, но и существующие вне его границ.

5.3. Москва, 1147 г., Даниил Александрович [3 балла].

5.4. Иван III, Марфа Борецкая, подчинением Новгорода, ликвидацией вечевого устройства. (возможен вариант 1471 г. битвы на реке Шелони: Иван III, Марфа Борецкая или Дмитрий Борецкий, сохранение независимости Новгорода, но при условии разрыва отношений с Литвой и уплаты контрибуции) [3 балла].

5.5. Князь приглашался на княжение в Новгород, решение важнейших вопросов находилось в руках веча (могли «указать путь» князю), исполнительная власть принадлежала посаднику, архиепископ хранил государственную казну, печать и архив и др. [3 балла].

5.6. Великое княжество Литовское, во второй половине XVI в. Российское государство вело Ливонскую войну с Литвой, закончившуюся для России

проигрышем. В 1569 г. Великое княжество Литовское заключает с Королевством Польским Люблинскую унию, что положило начало Речи Посполитой [3 балла].

5.7. Василий III, уезды, волости, станы [3 балла].

5.8. Издание Судебника 1497 г., появление первых приказов (Дворец и Казна), формирование Боярской Думы, управление на местах – наместниками Московского князя [3 балла].

Задание 6. Прочитайте отрывок из исторического источника и ответьте на вопросы [максимальный балл за все задание – 14].

Во имя Отца и Сына и Святаго духа, пишу грамоту душевную целым своим оумом. Даю ряд сыном своим и своей княгини.

1. Приказываю дети свои своей княгине.

2. А вы, дети мои, живите заодин, а матери своеё слушайте во всем.

3. А приказываю отчину свою Москву детям своим, князю Василью, князю Юрию, князю Андрею, князю Петру. <...>

5. А сына своего, князя Василья, благословляю на старишии путь в городе и в станех моего оудела двою жеребьев половина. <...>

30. А даст ми Бог сына, и княгини моя поделит его, возмя по части у болшие его братьи. <...>

32. А по грехом, отымет Бог сына моего, князя Василья, а хто будет под тем сын мой, ино тому сыну моему княж Васильев оудел, а того оуделом поделит их моя княгини. А вы, дети мои, слушайте своеё матери, что кому даст, то тому и есть. <...>

39. А переменит Бог Орду, дети мои не имут давати выхода в Орду, и которыхи сын мой возмет дань на своем оуделе, то тому и есть. <...>

54. А дети мои молодшая, чтите и слушаите своего брата старишего, в мое место, своего отца. <...>

55. А сын мой, князь Василии, держит своего брата, князя Юрья, и свою братью молодшую в братстве, без обиды. <...>

6.1. Укажите, кто был автором данного документа? Напишите годы его правления. На основании анализа приведенного документа и исторических знаний укажите, кто, по мнению автора, должен был стать великим князем? [3 балла].

6.2. Напишите название порядка престолонаследия, который существовал к периоду составления данного документа. Кто, по мнению автора документа, должен был занять престол после смерти первого наследника? [2 балла].

6.3. Привлекая исторические знания, укажите, кто занял престол после смерти первого наследника автора данного документа? Каковы были последствия данного решения? Укажите не менее одного последствия. [2 балла].

6.4. Завещание Москвы как отчины существенно усилило позиции Московского княжества. Назовите еще не менее двух причин возвышения

Москвы. Какое княжество было основным соперником Москвы в процессе объединения русских земель? [3 балла].

6.5. Укажите не менее двух военных столкновений с Золотой Ордой, произошедших в годы правления автора данного документа. Напишите название этих событий, а также год (ы), в которых они произошли. [4 балла].

Ответ:

6.1. Дмитрий Донской (1359-1389), старший сын Василий 1 [3 балла].

6.2. Лествичный, Юрий Дмитриевич Звенигородский [2 балла].

6.3. Василий 2. Последствия: началась новая междоусобица/ феодальная война; затормозился процесс объединения русских земель [2 балла].

6.4. географическое положение; политика московских князей; срединный фактор, Тверь [3 балла].

6.5. Битва на р. Пьяне (1377), Битва на р. Воже (1378), Куликовская битва (1380). [4 балла].

Задание 7. Внимательно прочитайте задание и ответьте на поставленные вопросы [максимальный балл за все задание – 18].

В 2020 г. Омску было присвоено почетное звание Российской Федерации «Город трудовой доблести». Это звание присваивается «за значительный вклад жителей городов в достижение Победы в Великой Отечественной войне 1941–1945 годов, обеспечение бесперебойного производства военной и гражданской продукции на промышленных предприятиях, проявленные при этом массовый трудовой героизм и самоотверженность». В годы Великой Отечественной войны в Омск был эвакуирован ряд предприятий. Напротив каждого эвакуированного предприятия **укажите город**, из которого он был эвакуирован, и ту продукцию, которую выпускал в годы войны в Омске (необходимо указать по **два наименования выпускаемой продукции** к каждому заводу):

7.1. радиозавод им. Н. Г. Козицкого №210

Ответ: из Ленинграда [1 балл], минометы, радиостанции [2 балла].

7.2. оптико-механический завод «Прогресс» (№357)

Ответ: из Ленинграда [1 балл], прицелы для винтовок, артиллерийские прицелы, дальнометы и др. **Ответ:** оптическая аппаратура для вооружения не принимается [2 балла].

7.3. киевский завод электротехнической аппаратуры №634

Ответ: из Киева [1 балл], взрыватели для мин, щитовые приборы, приборы для радиостанций, электроустановки для зенитной артиллерии, установки для размагничивания кораблей и др. **Ответ:** электротехническая аппаратура для вооружения не принимается [2 балла].

7.4. завод «Новая Тула»

Ответ: из Тулы [1 балл], пулеметные ленты, снаряды, орудийные гильзы, взрыватели [2 балла].

7.5. гильзовое производство ростовского завода «Эмальпосуда»

Ответ: из Ростова [1 балл], гильзы, звенья для авиапушек [2 балла].

7.6. авиационные заводы №156 и №81, которые были преобразованы в завод №166

Ответ: из Москвы [1 балл], бомбардировщики, истребители [2 балла]. **Ответ:** военные самолеты не принимается