



ВСЕРОССИЙСКАЯ ОЛИМПИАДА ШКОЛЬНИКОВ 2020/21 гг.  
ШКОЛЬНЫЙ ЭТАП  
ИСТОРИЯ  
6 КЛАСС

**Задания для обучающихся. Время выполнения - 45 мин.  
Максимальный балл - 100**

Код учащегося \_\_\_\_\_ БОУ \_\_\_\_\_ Класс \_\_\_\_\_

ФИО учителя \_\_\_\_\_ Балл \_\_\_\_\_

**1. Верны ли следующие утверждения («да» – «нет»)? Ответы внесите в таблицу.**

*(По 1 баллу за верное утверждение. Максимальный балл за задание – 10 ).*

- 1.1. Римский император Константин Великий известен своими гонениями на христиан.
- 1.2. Октавиан Август был приёмным сыном Юлия Цезаря.
- 1.3. Пирей – основной порт Древнего Рима.
- 1.4. Греческий бог Арес покровительствовал войне и военным действиям, и тем самым соответствует римскому богу Марсу.
- 1.5. В греческой мифологии богиня любви – Венера, а в римской мифологии – Афродита.
- 1.6. Эпос о Гильгамеше был создан в Древнем Египте.
- 1.7. Гробница императора Цинь Шихуанди находится на территории современного Египта.
- 1.8. Атила становится единовластным правителем державы остготов в V в.н.э.
- 1.9. Бенефиций – условное пожизненное земельное держание, введенное Карлом Мартеллом.
- 1.10. В Средневековой Франции в основе отношений между феодалами лежал принцип: «вассал моего вассала – не мой вассал».

1.1.	1.2.	1.3.	1.4.	1.5.	1.6.	1.7.	1.8.	1.9.	1.10.

**2. Прочитайте перечень, в котором есть один лишний элемент. Дайте краткое название ряда и обоснуйте выбор лишнего элемента. Ответы внесите в таблицу.**

*(По 1 баллу за верное название ряда, по 2 балла за обоснование выбора лишнего элемента. Максимальный балл за задание - 9).*

- 2.1. Гарпун с костяным наконечником, лук и стрелы, серп из кости с каменными вкладышами, копье;
- 2.2. Ра, Янус, Осирис, Анубис;
- 2.3. Зиккурат, акведук, форум, амфитеатр.



ВСЕРОССИЙСКАЯ ОЛИМПИАДА ШКОЛЬНИКОВ 2020/21 гг.  
ШКОЛЬНЫЙ ЭТАП  
ИСТОРИЯ  
6 КЛАСС

Ответ:

	Название ряда	Обоснование выбора лишнего элемента
2.1.		
2.2.		
2.3.		

**3. Вставьте вместо пропусков порядковые номера соответствующих слов из предложенного списка. Слова даны в списке в именительном падеже, прилагательные в форме мужского рода. ОБРАТИТЕ ВНИМАНИЕ: в списке слов есть и такие, которые в тексте встречаться не должны! Ответ внесите в таблицу.**

*(По 2 балла за верный выбор. Максимальный балл за задание - 10).*

С оформлением к началу IX в. крупной земельной собственности произошли существенные изменения в хозяйственной и социальной организации (А). Земля во владении обычно делилась на две части: на господскую землю, или (Б), на которой велось хозяйство феодала, и на землю, находившуюся в пользовании (В) крестьян и состоявшую из наделов. Наделы, на которых сидели крестьяне, были тяглыми, так как на них лежали определённые повинности в виде: натуральной ренты – (Г) и работы на хозяйской земле – (Д).

1.барщина	2.свободный	3.поместье	4.оброк	5.зависимый
6.франки	7.домен	8.сословный	9.феодализм	10.рабовладение

Ответ:

А	Б	В	Г	Д



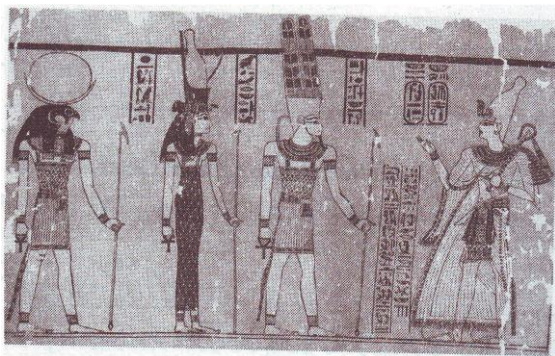
ВСЕРОССИЙСКАЯ ОЛИМПИАДА ШКОЛЬНИКОВ 2020/21 гг.  
ШКОЛЬНЫЙ ЭТАП  
ИСТОРИЯ  
6 КЛАСС

**4. Установите соответствие между иллюстрациями, приведенными ниже, и темами. К каждой теме подберите по одной иллюстрации. Обратите внимание на то, что тем больше, чем иллюстраций. Запишите в таблицу выбранные цифры под соответствующими буквами.**


*(По 2 балла за верно указанное соответствие.*

*Максимальный балл за задание – 8).*

**А.**



**Б.**



**В.**



**Г.**



**Темы:**

1. Древний Египет;
2. Древняя Палестина;
3. Древняя Индия;
4. Древний Китай;
5. Древняя Греция;
6. Древний Рим.

**Ответ:**

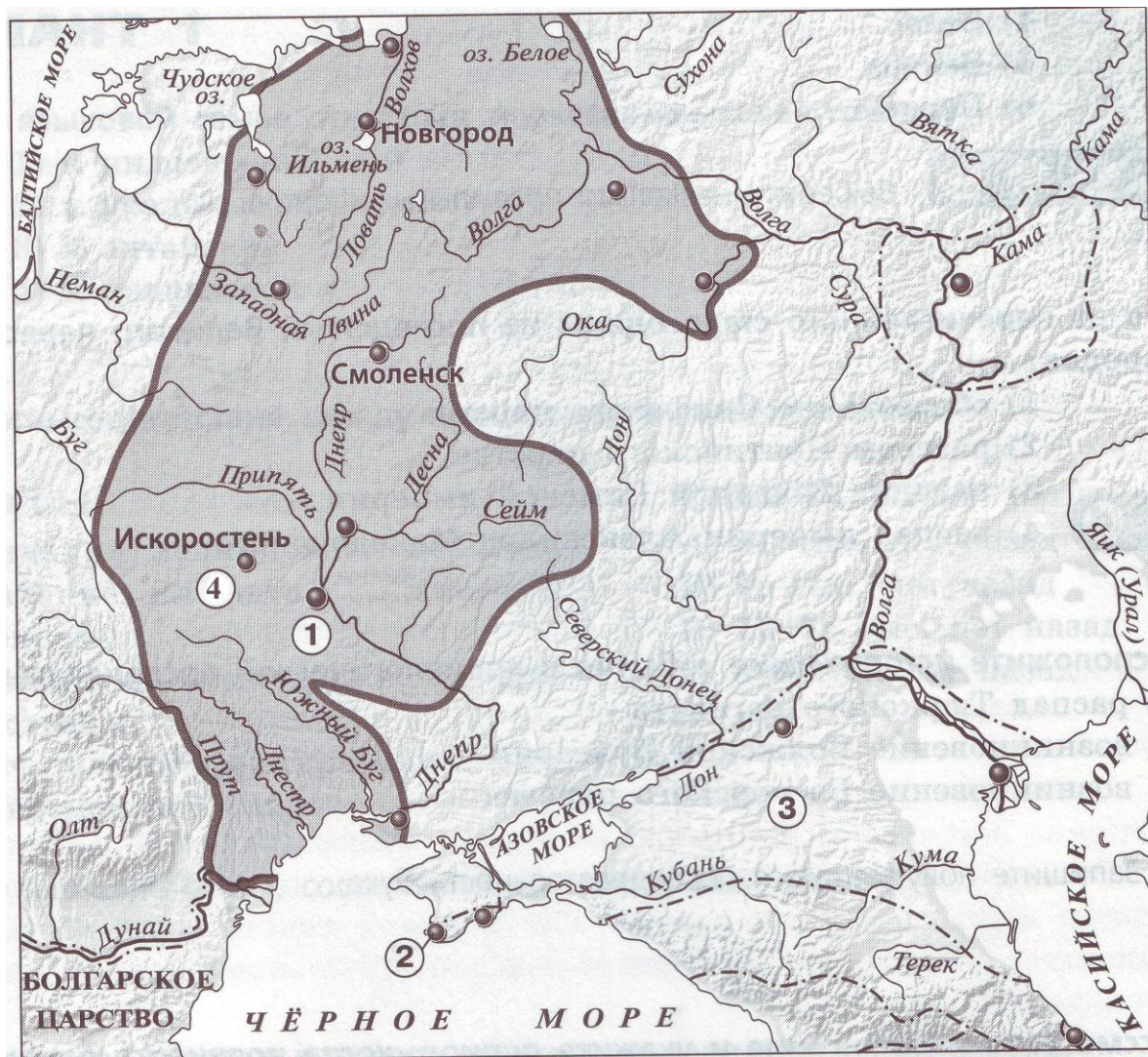
А	Б	В	Г



ВСЕРОССИЙСКАЯ ОЛИМПИАДА ШКОЛЬНИКОВ 2020/21 гг.  
ШКОЛЬНЫЙ ЭТАП  
ИСТОРИЯ  
6 КЛАСС

**5. Рассмотрите карту «Восточные славяне и их соседи в IV-IX веках» и выполните задания 5.1. – 5.4.**

*(По 3 балла за каждый верный ответ. Максимальный балл за задание- 12).*



**5.1. Укажите название города, обозначенного на карте цифрой «1».**

Ответ: \_\_\_\_\_

**5.2. Укажите название города, основанного древними греками, который обозначен на карте цифрой «2».**

Ответ: \_\_\_\_\_

**5.3. Укажите название государства, образовавшегося в VII веке, территория которого обозначена на карте цифрой «3».**

Ответ: \_\_\_\_\_

**5.4. Укажите название восточнославянского племенного союза, территория расселения которого обозначена на карте цифрой «4»:**



ВСЕРОССИЙСКАЯ ОЛИМПИАДА ШКОЛЬНИКОВ 2020/21 гг.  
ШКОЛЬНЫЙ ЭТАП  
ИСТОРИЯ  
6 КЛАСС

- 1) поляне;
- 2) ильменские словене;
- 3) древляне;
- 4) кривичи;
- 5) вятичи.

Ответ:

---

**6. Установите последовательность создания памятников, представленных на иллюстрациях. Запишите буквы, которыми обозначены иллюстрации, в правильной хронологической последовательности в таблицу.**  
*(По 2 балла за верно указанную позицию. Максимальный балл за задание- 10).*

А.



Б.



В.



Г.



Д.



Ответ:

--	--	--	--	--



ВСЕРОССИЙСКАЯ ОЛИМПИАДА ШКОЛЬНИКОВ 2020/21 гг.  
ШКОЛЬНЫЙ ЭТАП  
ИСТОРИЯ  
6 КЛАСС

7. Разгадайте ребусы. Установите соответствие между значением ребуса и описанием, определением. Ответы занесите в таблицу. (По 2 балла за верный ответ. Неверная пара ребус-описание – 0 баллов. Максимальный балл за задание- 20).

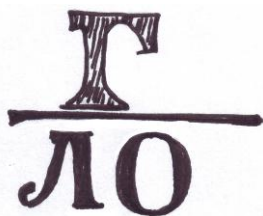
7.1.



7.2.



7.3.



7.4.



7.5.



7.6.



7.7.



7.8.



7.9.



7.10.





ВСЕРОССИЙСКАЯ ОЛИМПИАДА ШКОЛЬНИКОВ 2020/21 гг.  
ШКОЛЬНЫЙ ЭТАП  
ИСТОРИЯ  
6 КЛАСС

- А. в древнегреческой мифологии бог неба, грома и молний, ведающий всем миром;  
Б. греческий остров, с чьим именем связаны мифы о Тесее и Минотавре, Дедале и Икаре;  
В. столица Ассирийской державы в конце VIII-VII веках до н.э.;  
Г. многоярусный боевой корабль;  
Д. в древнегреческой и древнеримской мифологиях златокудрый бог света, покровитель искусств;  
Е. колодец-журавль, который использовали древние египтяне для орошения полей;  
Ж. обязательный платеж в пользу государства;  
З. в древнегреческой мифологии участники похода в Колхиду на корабле «Арго» с целью получить золотое руно;  
И. государство в Древней Греции, в котором земледелием, ремеслом занимались илоты;  
К. рыночная площадь в древнегреческих полисах, являвшаяся местом общегражданских собраний.

**Ответ:**

	Что означает ребус (слово)	Описание; определение (укажите букву)
7.1.		
7.2.		
7.3.		
7.4.		
7.5.		
7.6.		
7.7.		




ВСЕРОССИЙСКАЯ ОЛИМПИАДА ШКОЛЬНИКОВ 2020/21 гг.  
ШКОЛЬНЫЙ ЭТАП  
ИСТОРИЯ  
6 КЛАСС

7.8.		
7.9.		
7.10.		

**8. Решите кроссворд.**

*(По 1 баллу за верный ответ. Максимальный балл за задание- 15).*



*По горизонтали:*

- 2. так называли себя потомки знатных жителей древнейшего Рима;
- 4. гроб, украшенный рисунками и надписями с заклинаниями и изображениями богов;
- 8. опытные и мудрые старики, знавшие повадки животных и свойства растений, древние предания и правила поведения; управляли родовыми общинами;
- 10. титул главы империи;



ВСЕРОССИЙСКАЯ ОЛИМПИАДА ШКОЛЬНИКОВ 2020/21 гг.  
ШКОЛЬНЫЙ ЭТАП  
ИСТОРИЯ  
6 КЛАСС

12. знаменитый вождь афинского демоса на протяжении нескольких десятилетий;  
13. орудие труда, палка с сучком, с помощью которого первые земледельцы вскапывали землю;

*По вертикали:*

1. одно из великих изобретений древних китайцев, на изготовление которого шел бамбук и тряпки;  
3. служитель богов при храме;  
4. в искусстве Древнего Египта мифическое существо с головой человека и туловищем льва;  
5. мифическое существо, чудовище, имевшее туловище человека и голову быка;  
6. форма правления, в переводе с латинского означает «общественное дело»;  
7. одно из занятий первобытного человека, с изобретением которого у людей появилась одежда из льна и шерсти;  
9. культовое сооружение, предназначенное для совершения богослужений и религиозных обрядов, «жилище для богов»;  
11. одна из поэм Гомера;  
14. группа людей в Древней Индии, обладающая определенными правами и обязанностями; принадлежность к группе передавалась по наследству.

**9. В 2020 году россияне отметили 75 лет Победы в Великой Отечественной войне. В Омске память о событиях военной поры увековечена в нескольких монументах.**

**Рассмотрите изображения, вспомните, кому установлены эти памятники, в связи с чем. Ответ внесите в таблицу.**

*(По 1 баллу за верный ответ на каждый вопрос. Максимальный балл за задание- 6).*

**А.**



**Б.**





ВСЕРОССИЙСКАЯ ОЛИМПИАДА ШКОЛЬНИКОВ 2020/21 гг.  
ШКОЛЬНЫЙ ЭТАП  
ИСТОРИЯ  
6 КЛАСС

**В.**



**Ответ:**

	Кому установлен памятник	В связи с чем установлен памятник
<b>А.</b>		
<b>Б.</b>		
<b>В.</b>		